



المستوى: الثالث ابتدائي (3AP) جوان 2021

اختبار الفصل الثاني في الرياضيات

اللقب: الاسم: القسم:

التمرين الأول: أنجز العمليّات التّاليّة عمودياً.

| | | | |
|-------|--------|-----------|--------|
| 361×7 | 8521×5 | 5607-2319 | 623-17 |
| | | | |

التمرين الثاني:

أ- فكّك الأعداد التّاليّة تفكيكاً نموذجياً:

31265 =

70974 =

ب- ما هي مرتبة العدد 2 في الأعداد التّاليّة:

40 320 _ 1 632 _ 29 519 _ 12 530

..... مرتبة مرتبة مرتبة مرتبة

التمرين الثالث: حوّل إلى الوحدة المطلوبة.

9L50cL=.....cL

نصف ساعة = دقيقة

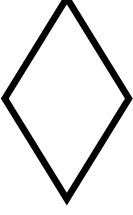
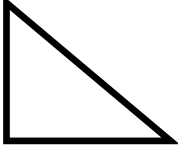

2042g =Kg.....g

ثلاث ساعات = دقيقة

5000m=.....Km

يوّمان = ساعة

التمرين الرابع: أكمل الجدول التالي.

| | | | |
|---|---|--|------------|
|  |  |  | المضلع |
| | | | إسمه |
| | | | عدد أضلاعه |

الوضعية الإدماجية:

ذهبت مريم مع أمها إلى معرض الكتاب، فاشتريت ما يلي:

- 6 مجلات بـ 345 ديناراً للمجلة الواحدة.
- كتاباً بـ 2650 ديناراً.
- قاموساً بـ 1980 ديناراً.

1- أحسب ثمن المجلات؟

2- أحسب ثمن المشتريات؟

إذا علمت أنه كان معها مبلغ 8000 ديناراً - ما هو المبلغ المتبقي لها؟

الأجوبة

الحل

العمليات

.....

.....

.....

.....

.....

.....

بالتوفيق.

التصحيح النموذجي:

التمرين الأول: (2ن) أنجز العمليات التالية عموديا

| | | | |
|----------------|-----------------|---------------|------------|
| 361×7 | 8521×5 | $5607 - 2319$ | $623 - 17$ |
| 2 527 | 42 605 | 3 288 | 606 |

التمرين الثاني: (2ن)

ت- فكك الأعداد التالية تفكيكا نموذجيا:

$$= (6 \times 10000) + (5 \times 1000) + (3 \times 100) + (1 \times 10) + 2$$

$$70\ 974 = 31265 (7 \times 10000) + (9 \times 100) + (7 \times 10) + 4$$

ما هي مرتبة العدد 2 في الأعداد التالية:

$$40\ 320 \quad _ \quad 1\ 632 \quad _ \quad 29\ 519 \quad _ \quad 12\ 530$$

مرتبة الآلاف مرتبة عشرات الآلاف مرتبة الوحدات مرتبة العشرات

التمرين الثالث: (1.5ن) حول الى الوحدة المطلوبة

$$9L50cL = 950cL$$

$$\text{نصف ساعة} = 30 \text{ دقيقة}$$

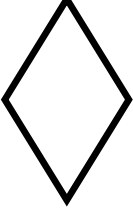
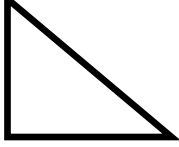

$$2042g = 2 \text{ Kg } 42g$$

$$\text{ثلاث ساعات} = 180 \text{ دقيقة}$$

$$5000m = 5 \text{ Km}$$

$$\text{يومين} = 48 \text{ ساعة}$$

التمرين الرابع: (1.5ن) أكمل الجدول التالي

| | | | |
|---|---|--|------------|
|  |  |  | المضلع |
| معين | مثلث قائم | مستطيل | اسمه |
| 4 | 3 | 4 | عدد أضلاعه |

الوضعية الإدماجية: (3ن)

ذهبت مريم مع أمها إلى معرض الكتاب, فاشتريت ما يلي:

- 6 مجلات ب 345 ديناراً للمجلة الواحدة.
- كتاباً ب 2650 ديناراً.
- قاموساً ب 1980 ديناراً.

1- أحسب ثمن المجلات؟

2- أحسب ثمن المشتريات؟

إذا علمت أنه كان معها مبلغ 8000 ديناراً - ما هو المبلغ المتبقي لها؟

الحل

$$345 \times 6 = 2070$$

ثمن المجلات هو: 2070 ديناراً

$$2070 + 2650 + 1980 = 6700$$

ثمن المشتريات هو: 6700 ديناراً

$$8000 - 6700 = 1300$$

المبلغ المتبقي لها هو: 1300 ديناراً

بالتوفيق.