



2022-2021

المستوى: الثالثة متوسط

اختبار الفصل الثالث في مادة الاعلام الالي



التمرين 1:

- عرف البريد الالكتروني
- اذكر مزايا البريد الالكتروني
- مما يتكون عنوان البريد الالكتروني


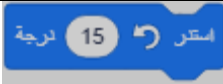
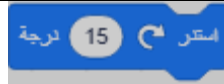
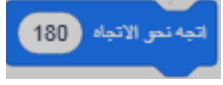
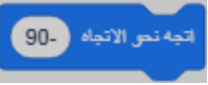
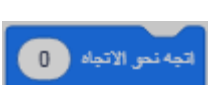

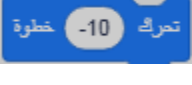

الوضعية الادماجية:

Scratch لغة برمجة جديدة تتيح لك إنشاء ألعابك ورسومك المتحركة، مضيفا إليه الأصوات والتأثيرات التي ترغبها.

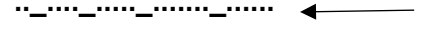
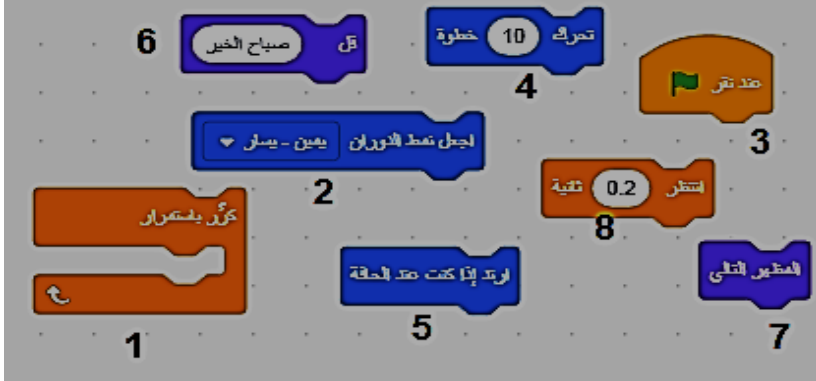
(a) أكمل الفراغات بالكلمة المناسبة:

- توجد لبنة الأمر  ضمن مجموعة أوامر
- لبنة الأمر  تجعل الكائن يستدير الساعة.

(b) اختر الإجابة الصحيحة:

اللبنة تجعل الكائن يستدير يمينا بمقدار 15 درجة مع عقارب الساعة		
 .C	 .B	 .A
يمكن تغيير اتجاه الكائن للأسفل باستعمال اللبنة		
 .C	 .B	 .A
القيمة الموجودة في اللبنة تجعل الكائن يتحرك الى الخلف		
 .A	 .B	 .C

(C) رتب (من اليمين الى اليسار) اللبنة الموضحة في الصورة للحصول على مقطع برمجي: "يجعل الكائن يتحرك ثم ينتظر حيث يدور عند الحافة مع قول: "صباح الخير" مع تكرار ذلك باستمرار".



(C) ضع كل لبنة أمام وظيفتها الصحيحة

وظيفةها	اللبنة
تجعل هذه اللبنة الكائن يلتف باتجاه معين ودرجة معينة.	
توضع هذه اللبنة في بداية أي مقطع برمجي.	
تجعل هذه اللبنة الكائن يكرر مجموعة من الأوامر عدد محدد من المرات	
تأمر هذه اللبنة الكائن بالتوجه نحو شيء محدد.	
تجعل الكائن يتقدم عدد محدد من الخطوات	
تختبر هذه اللبنة شرط معين	





مع تمنياتي لكم بالتوفيق


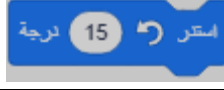
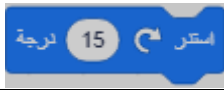
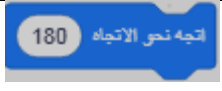
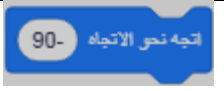
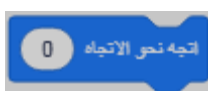
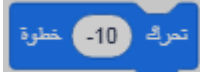
التصحيح

التمرين 1:

- البريد الإلكتروني هو البريد الذي يجري نقله عبر الانترنت من شبكة الى أخرى حتى يصل على المكان المطلوب في مدة زمنية محدودة.
 - مزايا البريد الإلكتروني: السرعة – التكلفة -التوقيت
 - يتكون عنوان البريد الإلكتروني من:
 1. اسم الشخص أو أي اسم آخر.
 2. إشارة @.
 3. اسم الشركة التي تزود بخدمة البريد الإلكتروني.
- Nom_prenom@yahoo.fr -

الوضعية الإدماجية:

- أكمل الفراغات بالكلمة المناسبة:
 - توجد لبنة الأمر  ضمن مجموعة أوامر **الحركة**
 - لبنة الأمر  تجعل الكائن يستدير **بمقدار 90° عكس عقارب الساعة**.
- اختر الإجابة الصحيحة:

اللبنةA..... تجعل الكائن يستدير يمينا بمقدار 15 درجة مع عقارب الساعة		
.C 	.B 	.A 
يمكن تغيير اتجاه الكائن للأسفل باستعمال اللبنةC.....		
C. 	B. 	.A 
القيمة الموجودة في اللبنةB..... تجعل الكائن يتحرك الى الخلف		
C. الاثنان معا	B. 	.A 

الترتيب:

2-5-6-7-8-4 -1-3 ←

وظيفتها	اللبنة
---------	--------

تجعل هذه اللبنة الكائن يلتف باتجاه معين ودرجة معينة.	
توضع هذه اللبنة في بداية أي مقطع برمجي.	
تجعل هذه اللبنة الكائن يكرر مجموعة من الأوامر عدد محدد من المرات	
تأمر هذه اللبنة الكائن بالتوجه نحو شيء محدد.	
تجعل الكائن يتقدم عدد محدد من الخطوات	
تختبر هذه اللبنة شرط معين	