



نوفمبر 2025

المستوى: الأولى ابتدائي (1AP)


الاسم واللقب:

وقفة تقييمية للفصل الأول في مادة الرياضيات

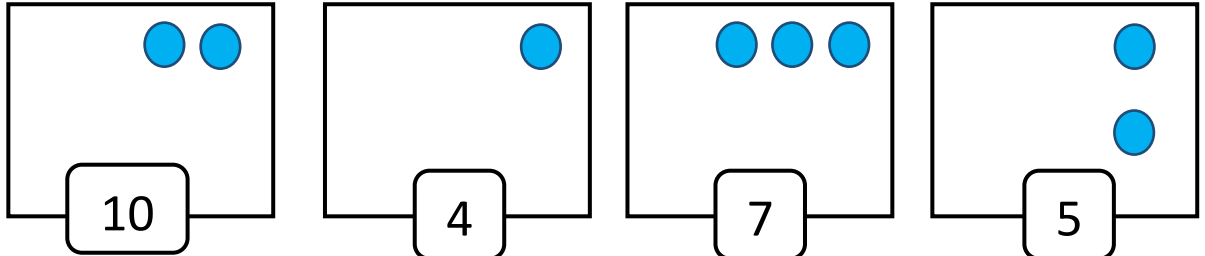
النشاط الأول: أكمل الشريط العددي.

.	1	.	.	4	.	.	.	8	.	.
---	---	---	---	---	---	---	---	---	---	---

النشاط الثاني: أحسب و أكتب العدد المناسب في كل مجموعة.



النشاط الثالث: أكمل رسم القرصات بقدر العدد المكتوب في كل بطاقة.




النشاط الرابع: ألون البطاقات المناسبة.



النشاط الخامس: ألون ما يوجد فوق الطاولة بالأحمر

وتحت الطاولة بالأخضر.

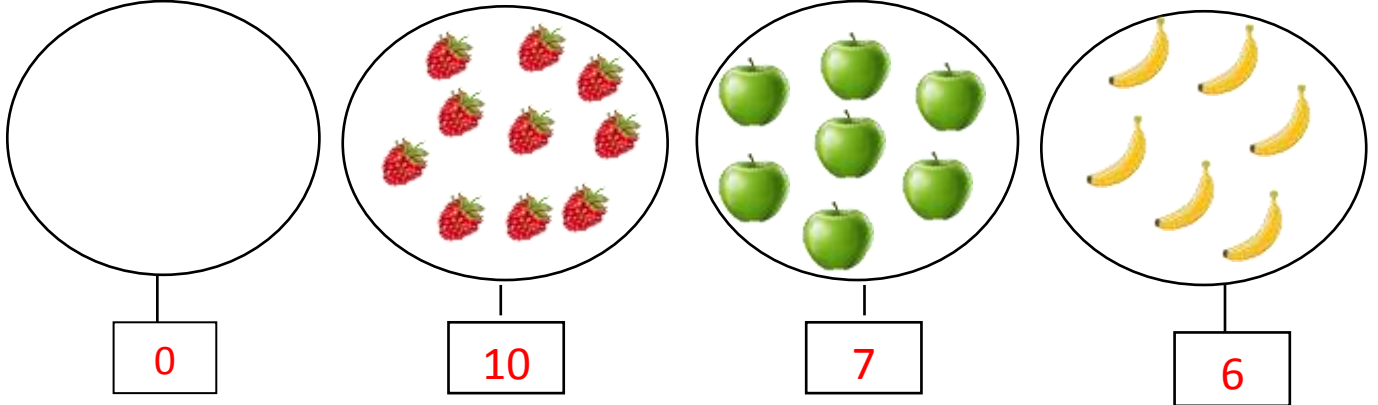


التصحيح النموذجي

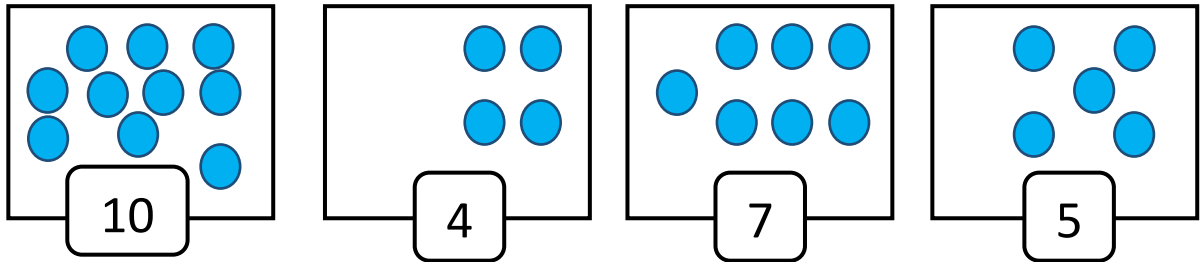
النشاط الأول: أكْمِلُ الشَّرِيطَ العَدَدِي.

0	1	2	3	4	5	6	7	8	9	10
---	---	---	---	---	---	---	---	---	---	----

النشاط الثاني: أَحْسِبْ وَأَكْتُبِ العَدَدَ المُنَاسِبَ فِي كُلِّ مَجْمُوعَةٍ.



النشاط الثالث: أكْمِلُ رَسْمَ القُرَيْصَاتِ بِقَدْرِ العَدَدِ المَكْتُوبِ فِي كُلِّ بِطَاقَةٍ.



النشاط الرابع: أَلَوْنُ البِطَاقَاتِ المُنَاسِبَةَ.



النشاط الخامس: أَلَوْنُ مَا يُوجَدُ فَوْقَ الطَّائِلَةِ بِالأَحْمَرِ

وَتَحْتَ الطَّائِلَةِ بِالأَخْضَرِ.

