



نوفمبر 2025

المستوى: الثاني ابتدائي

فرض في مادة الرياضيات

التمرين الأول: ألَوِّنِ البِطَاقَةَ الصَّحِيحَةَ.

54	45	64	5 وَحَدَاتٍ و 4 عَشْرَاتٍ هُوَ العَدَدُ
39	63	91	3 عَشْرَاتٍ و 9 وَحَدَاتٍ هُوَ العَدَدُ
26	62	65	6 وَحَدَاتٍ و 2 عَشْرَاتٍ هُوَ العَدَدُ

التمرين الثاني: أَكْمِلِ بِمَا يُنَاسِبُ.

	□		
ع	و	ع	و
الكَتَابَةُ الحَرْفِيَّةُ		الكَتَابَةُ الحَرْفِيَّةُ	الكَتَابَةُ الحَرْفِيَّةُ

التمرين الثالث:

(1) أَتَمِّمُ كُلَّ عَدَدٍ إِلَى العَشْرَةِ المُوَالِيَةِ:

$$16 + \dots = 20 \quad | \quad 29 + \dots = 30 \quad | \quad 45 + \dots = 50$$

(2) أَكْتُبُ العَدَدَ الَّذِي يَسْبِقُ والعَدَدَ الَّذِي يَلِي:



(3) أَضَعُ أَحَدَ الرَّمْزَيْنِ (> ، <) :

$$13 \ . \ 38 \quad | \quad 69 \ . \ 68 \quad | \quad 14 \ . \ 41$$



التمرين الرابع: أَضَعُ عَلامَةَ (✓) أَمَامَ الإِجابَةِ الصَّحِيحَةِ.

- البِنْتُ أَمَامَ الشَّجَرَةِ (.....)
- البِنْتُ وَرَاءَ الشَّجَرَةِ (.....)
- العَصافِيرُ أَعْلَى الشَّجَرَةِ (.....)

الوضعية الإدماجية:

اشترت أمي موزةً بـ 65 دينارًا وعلبةً زبادي بـ 20 دينارًا.

- كم دفعت الأم للبائع

الأجوبة

..... =

دفعَت الأمُّ للبائع دينارًا.

الحل

العمليات

$$\begin{array}{r} \dots\dots \\ + \\ \dots\dots \\ \hline = \dots\dots \end{array}$$




بالتوفيق

التصحيح النموذجي

التمرين الأول: ألون البطاقة الصحيحة.

54	45	64	5 وحَدَات و4 عَشْرَاتِ هُوَ الْعَدَد
39	63	91	3 عَشْرَات و9 وَحَدَاتِ هُوَ الْعَدَد
26	62	65	6 وَحَدَات و2 عَشْرَاتِ هُوَ الْعَدَد

التمرين الثاني: أكمل بما يناسب.

	□														
<table border="1"> <tr> <td>ع</td> <td>و</td> </tr> <tr> <td>4</td> <td>1</td> </tr> </table> <p>الكِتَابَةُ الحَرْفِيَّة واحد وأربعون</p>	ع	و	4	1		<table border="1"> <tr> <td>ع</td> <td>و</td> </tr> <tr> <td>5</td> <td>4</td> </tr> </table> <p>الكِتَابَةُ الحَرْفِيَّة أربعة وخمسون</p>	ع	و	5	4	<table border="1"> <tr> <td>ع</td> <td>و</td> </tr> <tr> <td>3</td> <td>0</td> </tr> </table> <p>الكِتَابَةُ الحَرْفِيَّة ثلاثون</p>	ع	و	3	0
ع	و														
4	1														
ع	و														
5	4														
ع	و														
3	0														

التمرين الثالث:

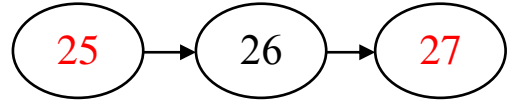
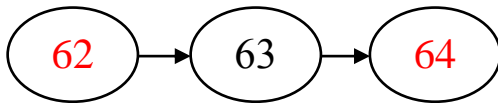
(4) أَنْمِّ كُلَّ عَدَدٍ إِلَى الْعَشْرَةِ الْمُؤَلِّيَّة:

$16 + 4 = 20$

$29 + 1 = 30$

$45 + 5 = 50$

(5) أَكْتُبِ الْعَدَدَ الَّذِي يَسْبِقُ وَالْعَدَدَ الَّذِي يَلِي:



(6) أَضَعْ أَحَدَ الرَّمْزَيْنِ (> ، <)

$13 < 38$

$69 > 68$

$14 < 41$



التمرين الرابع: أضع علامة (✓) أمام الإجابة الصحيحة.

- البنتُ أمامَ الشجرة (.....)
- البنتُ وراءَ الشجرة (✓)
- العصافيرُ أعلى الشجرة (✓)

الوضعية الإدماجية:

اشترت أمي موزة بـ 65 دينارًا وعلبة زبادي بـ 20 دينارًا.

- كم دفعت الأم للبايع

الأجوبة

$$65 + 20 = 85$$

دفعت الأم للبايع 85 دينارًا.

الحل

العمليات

$$\begin{array}{r} 65 \\ + 20 \\ \hline = 85 \end{array}$$